

**OD GROSIA DO
ZŁOTÓWKI**

Grosikowa gazetka nr 30/2024



**Szkoła Podstawowa nr 8
w Świętochłowicach**

woj. śląskie

Nauczyciel: Magdalena Wolny-Tront



ZŁOTÓWKA

RELACJA Z PODRÓŻY UCZNIÓW KLASY 3A
ZE SZKOŁY PODSTAWOWEJ NR 8 W ŚWIĘTOCHŁOWICACH



CELE PODRÓŻY:

DOSKONALENIE WIEDZY Z ZAKRESU
EDUKACJI FINANSOWEJ

POZNANIE POJĘĆ: BOGACTWO,
SKARB, OSIĄGNIĘCIA

ROZMOWA NA TEMAT NASZYCH
MARZEŃ I SZANS NA ICH SPEŁNIENIE

TWORZENIE WYPOWIEDZI
DOTYCZĄCYCH MARZEŃ, BOGACTWA,
UMIEJĘTNOŚCI I TALENTÓW

PLANOWANIE BEZPIECZNYCH
ZAKUPÓW W OKRESIE ŚWIĄTECZNYM



DZIENNIKI PODRÓŻY NR 17



Jeżeli masz z Wiem. Wiesz myślenie!
 -> do, że szczególnie zbliżony
 -> podróże

DZIENNIK PODRÓŻY NR 17

Wspaniali Podróżnicy!
 Jesteś mi bardzo miło podziwiać wrażeń z Wiem. Wiesz myślenie!
 i pilność oraz wzajemna współpraca sprawiły, że szczególnie zbliżony
 się do końca wyprawy. Dziś rozpoczniemy podróż
 na planety


A jaka to będzie planeta, dowiedzie się, rozwiązując krzyżówkę.
 Powodzenia! Wiesz przewodnik Grosik



NATAN PEMBON DZIENNIK PODRÓŻY NR 17

Wspaniali Podróżnicy!
 Jesteś mi bardzo miło podziwiać wrażeń z Wiem. Wiesz myślenie!
 i pilność oraz wzajemna współpraca sprawiły, że szczególnie zbliżony
 się do końca wyprawy. Dziś rozpoczniemy podróż
 na planety

A jaka to będzie planeta, dowiedzie się, rozwiązując krzyżówkę.
 Powodzenia! Wiesz przewodnik Grosik



1. Rozwiąż krzyżówkę.
 Powodzenia! Wiesz przewodnik Grosik

1. Najmniejszy nominal.
2. Kruzeczek z którego dawniej wyrządzano pieniądze.
3. Zakładane w banku.
4. Plastikowy pieniądz.
5. Wypłacana z konta bankowego.
6. Prace w banku.
7. Tam wypłacasz lub wpłacasz pieniądze.
8. W nim lokujesz pieniądze.



Moje osiągnięcia są moim bogactwem.

1. Rozwiąż zadania.
 Rodzice Ani założyli jej konto bankowe. Miesięcznie będą tam wpłacać
 pieniądze będzie miała Ania po upływie 4 miesięcy?

$$960 - 960 = 0$$

na koniec 280 zł. Ile pieniędzy wpłaciła na konto,
 960 zł?

$$960 - 280 = 680$$

do zadania i rozwiąż je.
 byli dwie lokaty terminowe. Na jednej mieli 2000 zł,
 5000 zł.

gdy musi nadzierać na obu lokatach

1. Rozwiąż zadanie. Rozpocznij od sylaby w zielonym
 Zapisz je w linijaturze.



Moje osiągnięcia są moim bogactwem.

1. Rozwiąż zadania.
 ni założyli dla niej konto bankowe. Miesięcznie będą tam
 zł. Ile pieniędzy będzie miała Ania po upływie 4 miesięcy?

$$960 - 960 = 0$$

na koniec 280 zł. Ile pieniędzy wpłaciła na konto,



Moje osiągnięcia są moim bogactwem.

1. Rozwiąż zadania.
 Rodzice Ani założyli jej konto bankowe. Miesięcznie będą tam
 po 90 zł. Ile pieniędzy będzie miała Ania po upływie 4 miesięcy?

$$90 \cdot 4 = 360 \text{ zł}$$

Mama miała na koniec 280 zł. Ile pieniędzy wpłaciła na konto
 jeśli teraz ma 960 zł?

$$960 - 280 = 680$$

Ułóż pytanie do zadania i rozwiąż je.
 Rodzice założyli dwie lokaty terminowe. Na jednej mieli 2000 zł
 a na drugiej 5000 zł.

Ile pieniędzy musi nadzierać na obu lokatach

$$5000 - 2000 = 3000 \text{ zł}$$

2. Odczytaj zaszyfrowane zdanie. Rozpocznij od sylaby
 poła. Zapisz je w linijaturze.



Marek P.

Moje osiągnięcia są moim bogactwem.

3. Rozwiąż zadania.
 Rodzice Ani założyli jej konto bankowe. Miesięcznie
 po 90 zł. Ile pieniędzy będzie miała Ania po upływie 4 miesięcy?

$$90 \cdot 4 = 360 \text{ zł}$$

Mama miała na koniec 280 zł. Ile pieniędzy wpłaciła na konto,

JESTEM BOGATY, BO...

Rozmowa na temat bogactwa. Zaznaczenie, iż w życiu nie ważne są tylko dobra materialne, ale także wartości, których kupić nie da się za żadne pieniądze.



3. Napisz, jaka umiejętność jest Twoim największym bogactwem i uzasadnij, dlaczego tak uważasz.

Jestem bogata, bo potrafię szybko biegać. Moim bogactwem jest to, że kocham czytać i lubię tańczyć, bo codziennie czytam i mam już 2 medale.



3. Napisz, jaka umiejętność jest Twoim największym bogactwem i uzasadnij, dlaczego tak uważasz.

Moim bogactwem jest to że ładnie umiem czytać. Jestem bogata bo zawsze pomagam mojej mamie w trudniej pracy.



3. Napisz, jaka umiejętność jest Twoim największym bogactwem i uzasadnij, dlaczego tak uważasz.

Jestem bogaty, bo umiem grać w piłkę. Jestem bogaty, bo wiem, że rodzina jest zdrowa. Jestem bogaty, bo znam tabliczkę mnożenia w zakresie 100.



a zbierze się kokosza.

Zapozyczyć się i ugościć innych, aby pokazać swoje „bogactwo”.

3. Napisz, jaka umiejętność jest Twoim największym bogactwem i uzasadnij, dlaczego tak uważasz.

Moim największym bogactwem jest czytanie, bo lubię czytać książki.



a zbierze się kokosza.
aby pokazać swoje „bogactwo”

3. Napisz, jaka umiejętność jest Twoim największym bogactwem i uzasadnij, dlaczego tak uważasz.



Moim bogactwem jest ułaskawienie

Ładnych zdania.

Jestem bogata, bo umiem bardzo dobrze taniec.

3. Napisz, jaka umiejętność jest Twoim największym bogactwem i uzasadnij, dlaczego tak uważasz.



Moim bogactwem jest że umiem bardzo dobrze mowienia. Dlatego że bardzo ciekaw. I lubię grać w piłkę nożną. I potrafię strzelać z rękami wolnymi i karnymi.

3. Napisz, jaka umiejętność jest Twoim największym bogactwem i uzasadnij, dlaczego tak uważasz.



Jestem bogaty, bo potrafię pomagać innym. Jestem bogaty, bo umiem rytmicznie. Jestem bogaty, bo wiem że mam dobrych ludzi wokół siebie.

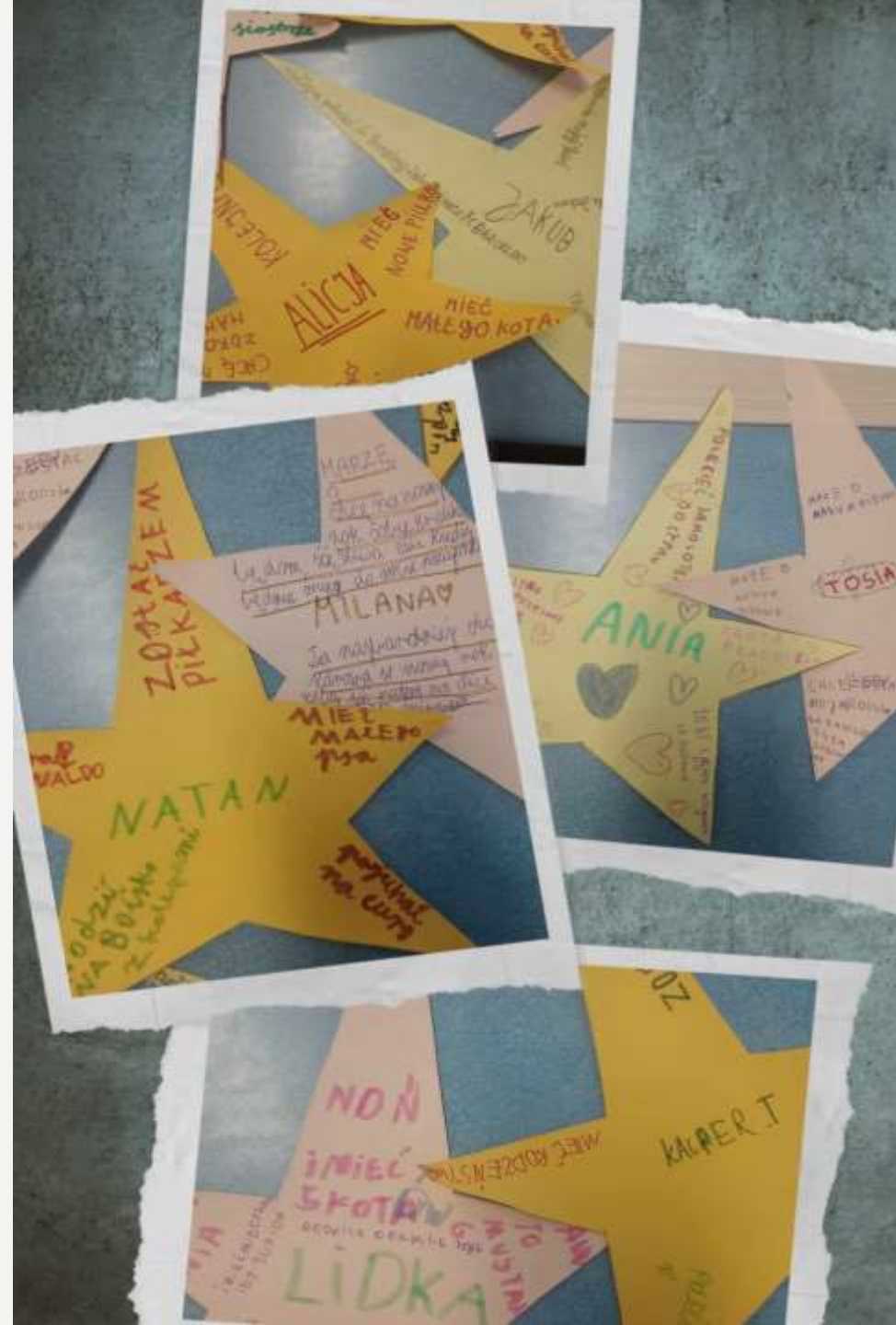
3. Napisz, jaka umiejętność jest Twoim największym bogactwem i uzasadnij, dlaczego tak uważasz.

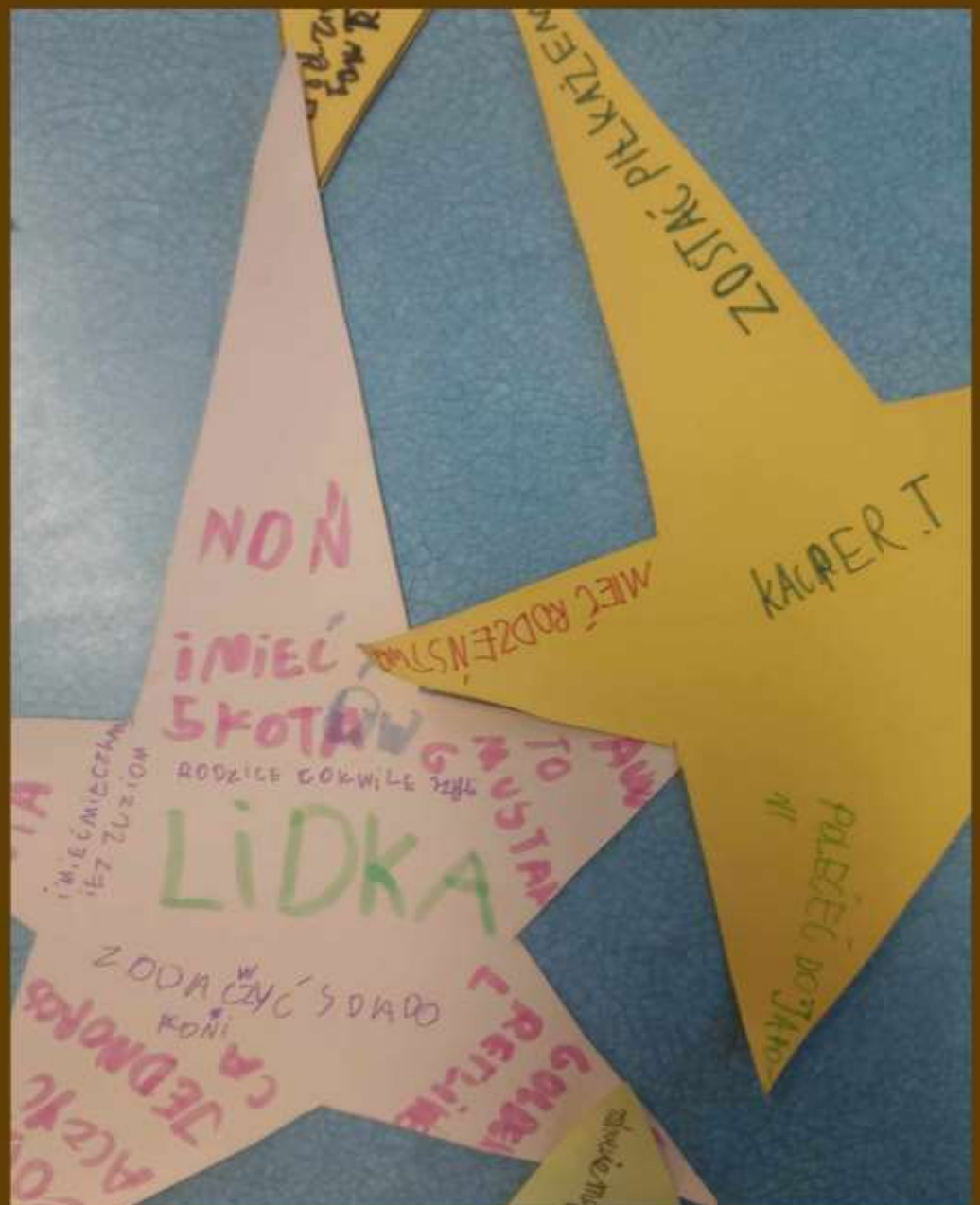



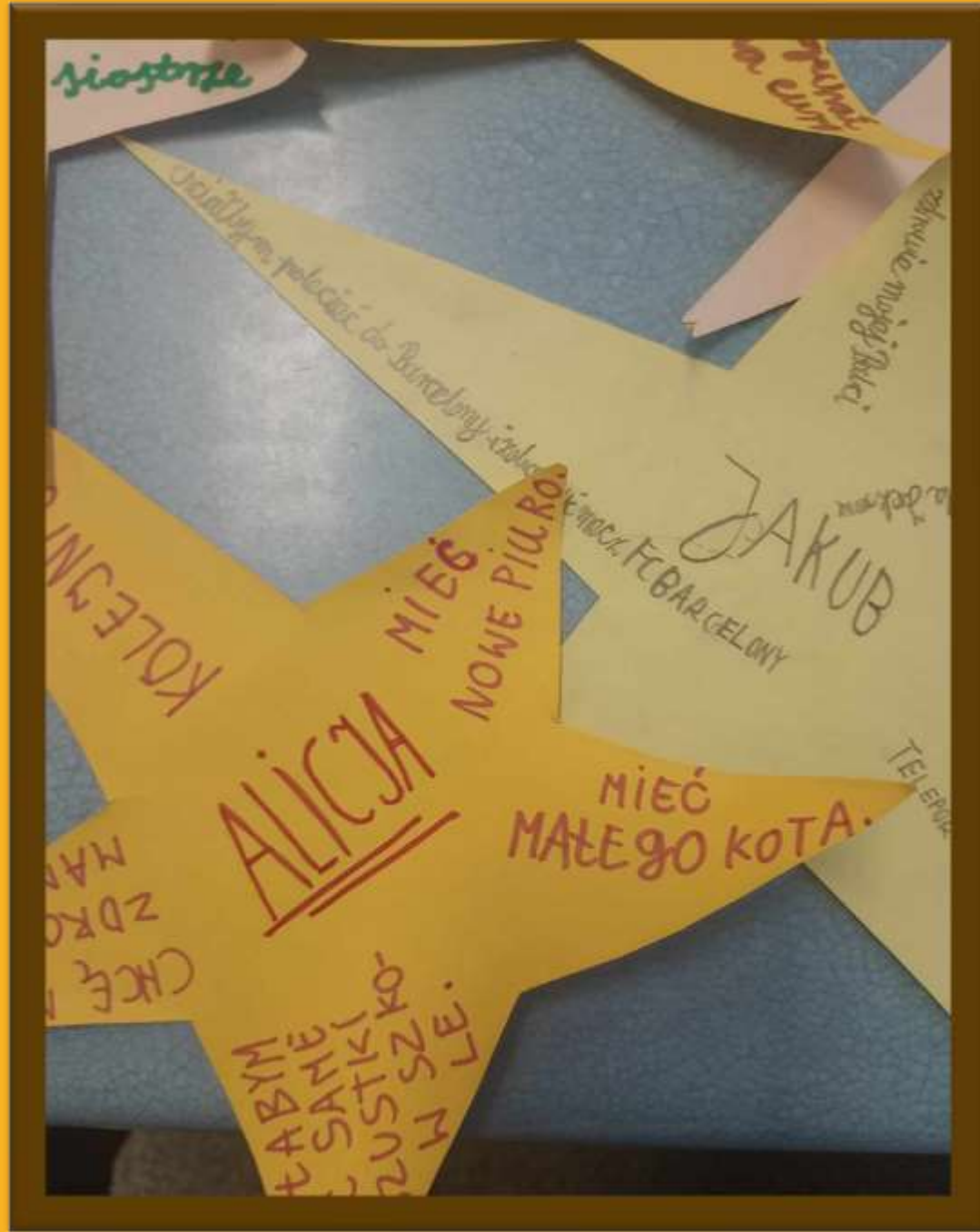
Moim bogactwem jest moja rodzina. Moim bogactwem że ja dobrze. Moją matematykę mam w dzienniku jedne 5 i 6. Moim bogactwem są moje rośliny to są, czerwony kwiatek, awokado, kiwano, mango, nałma i u dziadka na Ukrainę też są moje rośliny to, jiska, borowka, kwiatek który umie jeść owady.


GWIAZDOZBIÓR MARZEŃ

- ★ Rozmowa na temat marzeń oraz możliwości ich spełnienia.
- ★ Zapisanie pragnień na gwiazdach marzeń.
- ★ Stworzenie gazetki pt. „Gwiazdozbiór marzeń”.















ZŁOTÓWKA

OD GROSIKA DO ZŁOTÓWKI

OD GROSIKA DO ZŁOTÓWKI
DYPLOM
za udział w konkursie
w cyklicznej kampanii
"Złotówka grosika" w szkole



Na podstawie
naszego
gwiazdozbioru
marzeń
i wspólnych
rozważań,
napisaliśmy
refleksyjne listy
do gwiazd na temat
marzeń, radości
oraz szczęścia.



Świątobławice, 17 2021

Kochane gwiazdki z nieba!
Mamę o tym żeby moja rodzina była
zdrowa i szczęśliwa. Wiem że to mało
prawdopodobne ale chciał bym mieć moją
teleportacji i latania. Radość sprawia mi
gdy moja rodzina jest szczęśliwa.
Dziękuję za dziadka, babcię, tatę i mamę

Serdecznie was pozdrawiam
Oliwier





Kochane gwiazdki z nieba!
Mamę o młodszą siostrze. Chętnie op
byłbym się nią i koncertem Samuela.
Sprawia mi radość śpiewanie piosenek
Tęsknienie mi też sprawia radość.
Dziękuję za was kochamą rodzinę.

Serdecznie was pozdrawiam




Świątobławice, 17 grudnia 2024

1) Kochane gwiazdki z nieba!
Mamę o młodszym rodzeństwie.
Żeby był pokój na świecie, i żeby być na meczach
w Barcelonie.
Radość sprawia mi to, gdy mogę spędzić czas
z rodziną.
Dziękuję wam za to, że moja rodzina jest
zdrowa.



Serdecznie Was pozdrawiam.

Kasper T.



1) Kochane gwiazdki z nieba!
Drogie gwiazdki mamę o pieniądzu
koniu, stajnie i fajnie albo i super
goldena tetriwera. Gwiazdki drce wtedy
moją rodzinę żyłi jak naj dłużej i
może żeby nigdy nie umierały. Kom
to mama i tata przyjadętki i z
tego ciessom się ludzie. Dziękuję
dobrom rodzinie za ludemarki i z
najlepsze życie i za najlepsze
ambiente.

Świątobławice, 17

Serdecznie
was
pozdrawiam
Lidia



Świętochłowice, 17 grudnia 2024r.



Kochane gwiazdki z nieba!

Mamę o chomika i małej świnie, morkiej, byłam bym świątecznym opiekunem a oprócz tego chcia-
ła bym mieć same zwierzątka w szkole. Mi radość
wspiera jak moja siostra jest zdrowa. Dzięk-
uję ci za moją siostrę Magdę.

Serdecznie Was pozdra-
wiam
Alicja

Świętochłowice, 17 grudnia 2024 roku

Kochane gwiazdki z nieba!

Gwiazdki proszę was o to, żeby mogłam zobaczyć wasz bo myślałam
umarł więc chce żeby znowu był w swoim łóżeczku. Mam o
małym piśtaku lub chomiku i małym bydloniu. Gwiazdki co wiecie co spr-
awia mi radość? Jestem szczęśliwa jak bawię się z moimi zwierzętami, mi-
rodzice są zdrowi i jedni mogą spędzać czas z rodziną.

Serdecznie Was pozdra-
wiam
Tosia F

Świętochłowice, 17 grudnia
2024r.

Kochane gwiazdki z nieba!

Mamę, żeby poleceć samolotem do Cypru. Mamę
ównież^{zety} mojemu tacie udat się escape room.
prawie mi radość kiedy moja mama jest zdro-
wa. Draz kiedy moja siostra się nie przejmuję.
Dziękuję za kochających rodziców i za to, że mam
o jeść.

Serdecznie was pozdra-
wiam
Amia Dytka

Świętochłowice,
17 grudnia 2024 roku

Kochane gwiazdki z nieba!

Gwiazdki chciałabym dla siebie i
pupuski Róxi super prezenty, post chod-
Kiedyś bardzo chciałam piśtaka, ale teraz mi
Róxi. Lubię się bawić z Rózią i dbam, że
była zdrowa i jest do mnie jak siostra.
Bardzo lubię święta, bo można być razem
z rodziną. Gwiazdki chciałabym wie-
co teraz robicie?

Serdecznie Was
pozdrawiam,
Martyna K.

Świątchłowice 17 grudnia
Świątchłowice, 17 grudnia 2024.

Kocham gwiazdki i nieba!

Chce zobaczyć Michaela Jacksona. Też chciałbym zobaczyć
mecz FC Barcelony. Chciałbym mieć moc teleportacji.
Mam nadzieję, że kiedyś moja babcia będzie już zdrowa.
Jestem radosny kiedy moja mama i tata mają czas po-
trawić się z innymi i z moim bratem. Dziękuję za
dźwięki którymi mimo trudnych chwil umie mnie ucieszyć.
Serdecznie was pozdrawiam Julia

Świątchłowice, 17 grudnia 2024

Kocham gwiazdki i nieba!

Mama o: młodziej siostrze. Chętnie opiekowałam
bym się nią i mam o: koncercie Samah.

Sprawia mi radość śpiewanie piosenek Samah.
Tańczenie mi też sprawia radość.

Dziękuję za ~~mi~~ kochaną rodzinę.

Serdecznie was pozdrawiam Julia




Świątchtaurice, 17
grudnia 2024 roku.

Kochane gwiazdki z nieba!

Gwiazdki chciałabym dla siebie i mojej
papuski Rózi super prezenty, pod choinkę.

Kiedyś bardzo chciałam piśka, ale teraz mam
Rózię. Lubię się bawić z Rózią i dbam, żeby
była zdrowa i jest do mnie jak siostra.

Bardzo lubię święta, bo można być razem
z rodziną. Gwiazdki chciałabym wiedzieć
co teraz robicie?



Serdecznie Was
pozdrawiam,
Martyna K.



Świątchtaurice, 17 grudnia 2024



1) Kochane gwiazdki z nieba!

Marzę o młodszym rodzeństwie.

Żeby był pokój na świecie, i żeby być na meczach
FC Barcelony.

Radość sprawia mi to, gdy mogę spędzać czas
z rodziną.

Dziękuję wam za to, że moja rodzina jest
zdrowa.



Serdecznie Was pozdrawiam.



Kacper J.





DZIENNIKI PODRÓŻY NR 18



Grosik miał 98 gr. Na paski do gwiazdek wydał 36 gr. Ile pieniędzy zostało Grosikowi?

$98 - 36 = 62$
Odp. Grosikowi zostało 62 gr.

Grosik miał w portfelu pewną kwotę pieniędzy na ozdoby świąteczne. Za kolorowy papier zapłacił 52 gr. Ile pieniędzy miał Grosik w portfelu, jeśli zostało mu 34 gr?

$52 + 34 = 86$
Odp. Grosik miał w portfelu 86 gr.

Grosik ma w skarbnicy 45 zł na prezenty w monetach pięciozłotowych. Ile monet pięciozłotowych ma Grosik w skarbnicy?

$45 : 5 = 9$
Odp. Grosik ma w skarbnicy 9 monet 5 zł.

Grosik kupił orzechy za 8 zł i rodzynki za 13 zł. Dał sprzedawczyni 50 zł. Ile reszty otrzymał Grosik?

$50 - (8 + 13) = 50 - 21 = 29$
Odp. Grosik otrzymał 29 zł reszty.

Grosik wybiera się po świąteczne prezenty. Oblicz, ile pieniędzy zgromadził Grosik, jeśli w skarbnicy ma: 6 monet po 2 zł i 4 monety po 5 zł, a na koncie bankowym 16 zł.

$6 \cdot 2 + 4 \cdot 5 + 16 = 12 + 20 + 16 = 48$
Odp. Grosik zgromadził 48 zł.

DZIENNIK PODRÓŻY NR 18

1. Rozwiąż zadania.

Grosik miał 98 gr. Na paski do gwiazdek wydał 36 gr. Ile pieniędzy zostało Grosikowi?

$98 - 36 = 62$
Odp. Grosikowi zostało 62 gr.

Grosik miał w portfelu pewną kwotę pieniędzy na ozdoby świąteczne. Za kolorowy papier zapłacił 52 gr. Ile pieniędzy miał Grosik w portfelu, jeśli zostało mu 34 gr?

$52 + 34 = 86$
Odp. Grosik miał w portfelu 86 gr.

Grosik ma w skarbnicy 45 zł na prezenty w monetach pięciozłotowych. Ile monet pięciozłotowych ma Grosik w skarbnicy?

$45 : 5 = 9$
Odp. Grosik ma w skarbnicy 9 monet 5 zł.

Grosik kupił orzechy za 8 zł i rodzynki za 13 zł. Dał sprzedawczyni 50 zł. Ile reszty otrzymał Grosik?

$50 - (8 + 13) = 50 - 21 = 29$
Odp. Grosik otrzymał 29 zł reszty.

Grosik wybiera się po świąteczne prezenty. Oblicz, ile pieniędzy zgromadził Grosik, jeśli w skarbnicy ma: 6 monet po 2 zł i 4 monety po 5 zł, a na koncie bankowym 16 zł.

$6 \cdot 2 + 4 \cdot 5 + 16 = 12 + 20 + 16 = 48$
Odp. Grosik zgromadził 48 zł.

Grosik miał 98 gr. Na paski do gwiazdek wydał 36 gr. Ile pieniędzy zostało Grosikowi?

$98 - 36 = 62$
Odp. Grosikowi zostało 62 gr.

Grosik miał w portfelu pewną kwotę pieniędzy na ozdoby świąteczne. Za kolorowy papier zapłacił 52 gr. Ile pieniędzy miał Grosik w portfelu, jeśli zostało mu 34 gr?

$52 + 34 = 86$
Odp. Grosik miał w portfelu 86 gr.

Grosik ma w skarbnicy 45 zł na prezenty w monetach pięciozłotowych. Ile monet pięciozłotowych ma Grosik w skarbnicy?

$45 : 5 = 9$
Odp. Grosik ma w skarbnicy 9 monet 5 zł.

Grosik kupił orzechy za 8 zł i rodzynki za 13 zł. Dał sprzedawczyni 50 zł. Ile reszty otrzymał Grosik?

$50 - (8 + 13) = 50 - 21 = 29$
Odp. Grosik otrzymał 29 zł reszty.

Grosik wybiera się po świąteczne prezenty. Oblicz, ile pieniędzy zgromadził Grosik, jeśli w skarbnicy ma: 6 monet po 2 zł i 4 monety po 5 zł, a na koncie bankowym 16 zł.

$6 \cdot 2 + 4 \cdot 5 + 16 = 12 + 20 + 16 = 48$
Odp. Grosik zgromadził 48 zł.

DZIENNIK PODRÓŻY NR 18

1. Rozwiąż zadania.

Grosik miał 98 gr. Na paski do gwiazdek wydał 36 gr. Ile pieniędzy zostało Grosikowi?

$98 - 36 = 62$
Odp. Grosikowi zostało 62 gr.

Grosik miał w portfelu pewną kwotę pieniędzy na ozdoby świąteczne. Za kolorowy papier zapłacił 52 gr. Ile pieniędzy miał Grosik w portfelu, jeśli zostało mu 34 gr?

$52 + 34 = 86$
Odp. Grosik miał w portfelu 86 gr.

Grosik ma w skarbnicy 45 zł na prezenty w monetach pięciozłotowych. Ile monet pięciozłotowych ma Grosik w skarbnicy?

$45 : 5 = 9$
Odp. Grosik ma w skarbnicy 9 monet 5 zł.


Grosik kupił orzechy za 8 zł i rodzynki za 13 zł. Dał sprzedawczyni 50 zł. Ile reszty otrzymał Grosik?

$50 - (8 + 13) = 50 - 21 = 29$
Odp. Grosik otrzymał 29 zł reszty.

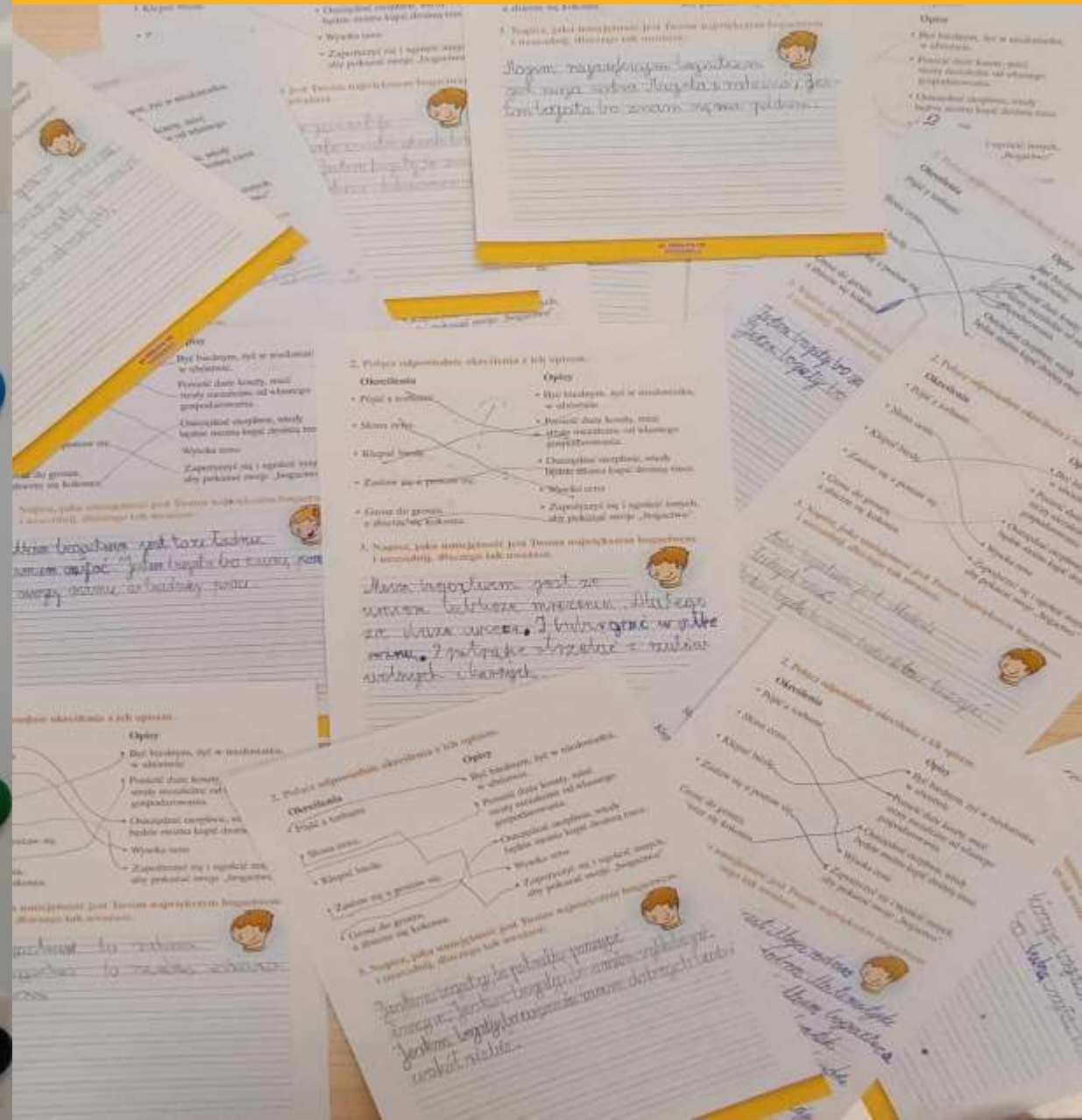
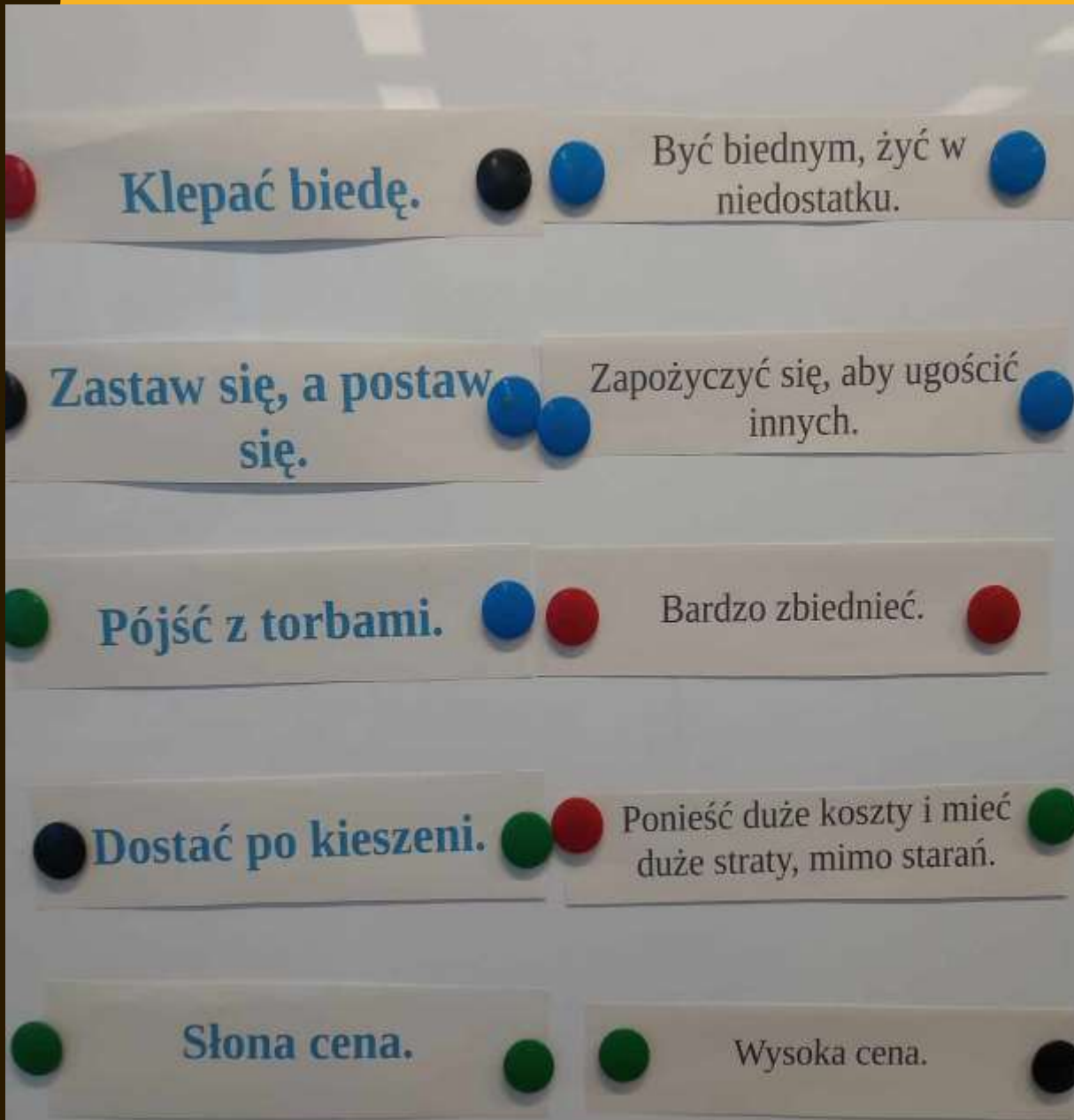
Grosik wybiera się po świąteczne prezenty. Oblicz, ile pieniędzy zgromadził Grosik, jeśli w skarbnicy ma: 6 monet po 2 zł i 4 monety po 5 zł, a na koncie bankowym 16 zł.

$6 \cdot 2 + 4 \cdot 5 + 16 = 12 + 20 + 16 = 48$
Odp. Grosik zgromadził 48 zł.


Obliczenia pieniężne i rozwiązywanie zadań tekstowych w dzienniku podróży.



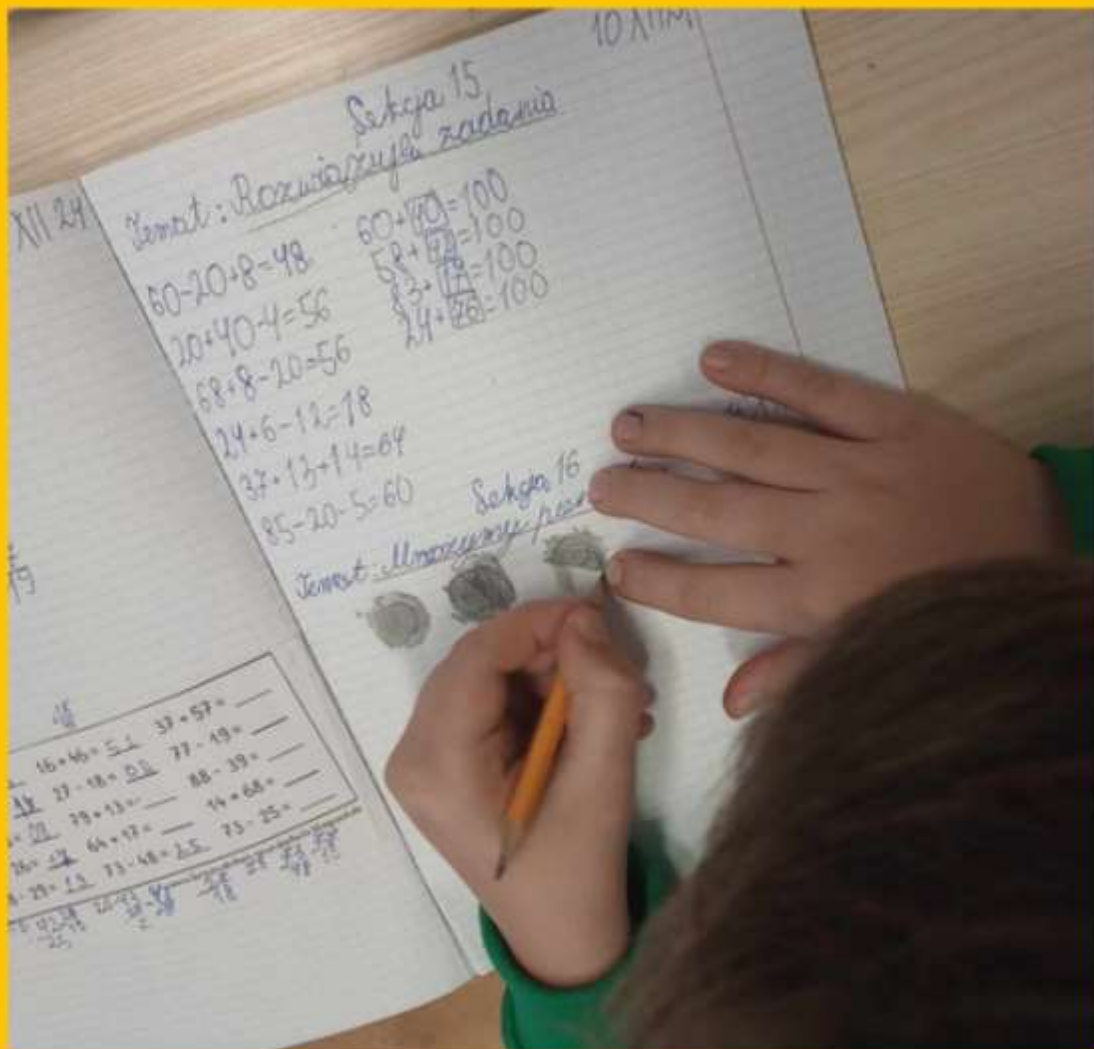
Oszczędne gospodarowanie domowym budżetem na bazie określeń.




Rozwiązywanie
multimedialnych
zadań matematycznych.



Zabawa w kalkowanie monet i mnożenie pieniędzy





He to pamiętaj:

$$3 \cdot 5zł = 15zł \quad 5 \cdot 5zł = 25zł$$

$$4 \cdot 2zł = 8zł \quad 6 \cdot 2zł = 12zł$$

$$10 \cdot 1zł = 10zł$$

$$(3 \cdot 2zł) + (3 \cdot 5zł) = 21zł$$

$$(2 \cdot 5zł) + (4 \cdot 2zł) = 10 + 8 = 18zł$$

$$10zł + (3 \cdot 1zł) + (5 \cdot 5zł) = 10 + 3 + 25 = 38$$

$$3 \cdot 2 = 6zł \quad 3zł = 3zł \quad 6zł + 3zł = 9zł$$

$$4 \cdot 4 = 16zł \quad 14 + 5 = 19zł \quad 20 - 19 = 1zł$$

$$100gr - 40 = 60gr \quad 50gr - 30gr = 20gr$$

$$2 \cdot 4zł = 8zł \quad 20 - 8 = 12zł$$

He to pamiętaj?

$$\checkmark 3 \cdot 5zł = 15zł \quad 5 \cdot 5zł = 25zł \checkmark$$

$$\checkmark 4 \cdot 2zł = 8zł \quad 6 \cdot 2zł = 12zł \checkmark$$

$$\checkmark 10 \cdot 1zł = 10zł \quad 1 \cdot 1zł = 1zł \checkmark$$

$$(3 \cdot 2zł) + (3 \cdot 5zł) = 21zł \checkmark$$

$$(2 \cdot 5zł) + (4 \cdot 2zł) = 18zł \checkmark$$

$$10zł + (3 \cdot 1zł) + (5 \cdot 5zł) = 38zł \checkmark$$

$$3zł \cdot 2 = 6zł$$

$$3 \cdot 1 = 3zł$$

$$6zł + 3zł = 9zł$$

$$4 \cdot 4 = 16zł$$

$$14zł + 5zł = 19zł \quad 20zł - \frac{19zł}{19} = 1zł$$

$$100gr - 40gr = 60gr$$

$$50gr - 30gr = 20gr$$

$$2 \cdot 4zł = 8zł$$

$$20zł - 8zł = 12zł$$

$$3 \cdot 5zł = 15zł \quad 5 \cdot 5zł = 25zł$$

$$4 \cdot 2zł = 8zł \quad 6 \cdot 2zł = 12zł$$

$$10 \cdot 1zł = 10zł \quad 1 \cdot 1zł = 1zł$$

$$(3 \cdot 2zł) + (3 \cdot 5zł) = 21zł$$

$$(2 \cdot 5zł) + (4 \cdot 2zł) = 18zł$$


$$10zł + (3 \cdot 1zł) + (5 \cdot 5zł) = 38zł$$

$$3zł \cdot 2 = 6zł \quad 3 \cdot 1 = 3 \quad 6 + 3 = 9$$

$$4 \cdot 4 = 16zł$$


$60 - 20 = 8 = 48$ $60 - 40 = 20 = 100$
 $20 + 40 = 4 = 56$ $58 + 42 = 100$
 $58 + 8 = 20 = 56$ $73 + 27 = 100$
 $24 + 6 = 18 = 18$ $24 + 76 = 100$
 $32 + 13 = 14 = 64$
 $85 - 20 = 5 = 60$

Sekcja 16
 Temat: Mnożymy pieniądze 16 X 12 zł




$3 \cdot 5 \text{ zł} = 15 \text{ zł}$ $5 \cdot 5 \text{ zł} = 25 \text{ zł}$
 $4 \cdot 2 \text{ zł} = 8 \text{ zł}$ $6 \cdot 2 \text{ zł} = 12 \text{ zł}$
 $10 \cdot 1 \text{ zł} = 10 \text{ zł}$ $1 \cdot 1 \text{ zł} = 1 \text{ zł}$
 $(3 \cdot 2 \text{ zł}) + (5 \cdot 5 \text{ zł}) = 21$
 $(2 \cdot 5 \text{ zł}) + (4 \cdot 2 \text{ zł}) = 18$
 $10 \text{ zł} + (2 \cdot 1 \text{ zł}) = 12$

$60 + 40 = 100$
 $58 + 42 = 100$
 $83 + 17 = 100$
 $24 + 76 = 100$



Sekcja 16
 Temat: Mnożymy pieniądze




$3 \cdot 5 = 15 \text{ zł}$
 $4 \cdot 2 = 8 \text{ zł}$
 $10 \cdot 1 = 10 \text{ zł}$
 $5 \cdot 5 = 25 \text{ zł}$
 $6 \cdot 2 = 12 \text{ zł}$
 $1 \cdot 1 = 1 \text{ zł}$
 $(3 \cdot 2 \text{ zł}) + (5 \cdot 5 \text{ zł}) = 6 \text{ zł} + 15 \text{ zł} = 21$
 $(2 \cdot 5 \text{ zł}) + (4 \cdot 2 \text{ zł}) = 10 \text{ zł} + 8 \text{ zł} = 18$
 $10 \text{ zł} + (2 \cdot 1 \text{ zł}) = 12 \text{ zł}$
 $10 \text{ zł} + (2 \cdot 1 \text{ zł}) = 12 \text{ zł}$
 $10 \text{ zł} + (2 \cdot 1 \text{ zł}) = 12 \text{ zł}$
 $10 \text{ zł} + (2 \cdot 1 \text{ zł}) = 12 \text{ zł}$



Sekcja 16
 Temat: Mnożymy pieniądze

$3 \cdot 5 \text{ zł} = 15 \text{ zł}$
 $4 \cdot 2 \text{ zł} = 8 \text{ zł}$
 $10 \cdot 1 \text{ zł} = 10 \text{ zł}$
 $5 \cdot 5 \text{ zł} = 25 \text{ zł}$
 $6 \cdot 2 \text{ zł} = 12 \text{ zł}$
 $1 \cdot 1 \text{ zł} = 1 \text{ zł}$
 $(3 \cdot 2 \text{ zł}) + (5 \cdot 5 \text{ zł}) = 6 \text{ zł} + 15 \text{ zł} = 21$
 $(2 \cdot 5 \text{ zł}) + (4 \cdot 2 \text{ zł}) = 10 \text{ zł} + 8 \text{ zł} = 18$
 $10 \text{ zł} + (2 \cdot 1 \text{ zł}) = 12 \text{ zł}$
 $10 \text{ zł} + (2 \cdot 1 \text{ zł}) = 12 \text{ zł}$
 $10 \text{ zł} + (2 \cdot 1 \text{ zł}) = 12 \text{ zł}$
 $10 \text{ zł} + (2 \cdot 1 \text{ zł}) = 12 \text{ zł}$

$3 \text{ zł} \cdot 2 = 6 \text{ zł}$
 $3 \text{ zł} \cdot 3 = 9 \text{ zł}$
 $4 \text{ zł} \cdot 4 = 16 \text{ zł}$
 $14 \text{ zł} + 5 = 19 \text{ zł}$
 $20 \text{ zł} - 10 = 10 \text{ zł}$
 $100 \text{ gr} - 10 = 90 \text{ gr}$
 $50 \text{ gr} - 30 = 20 \text{ gr}$
 $2 \text{ zł} = 2 \text{ zł}$
 $20 \text{ zł} - 8 = 12 \text{ zł}$




Mnożymy?
 $5 \cdot 5 \text{ zł} = 25 \text{ zł} \checkmark$
 $6 \cdot 2 \text{ zł} = 12 \text{ zł} \checkmark$
 $7 \cdot 4 \text{ zł} = 28 \text{ zł} \checkmark$
 $2 \cdot 9 \text{ zł} = 18 \text{ zł} \checkmark$
 $10 \cdot (5 \cdot 5 \text{ zł}) = 38 \text{ zł}$

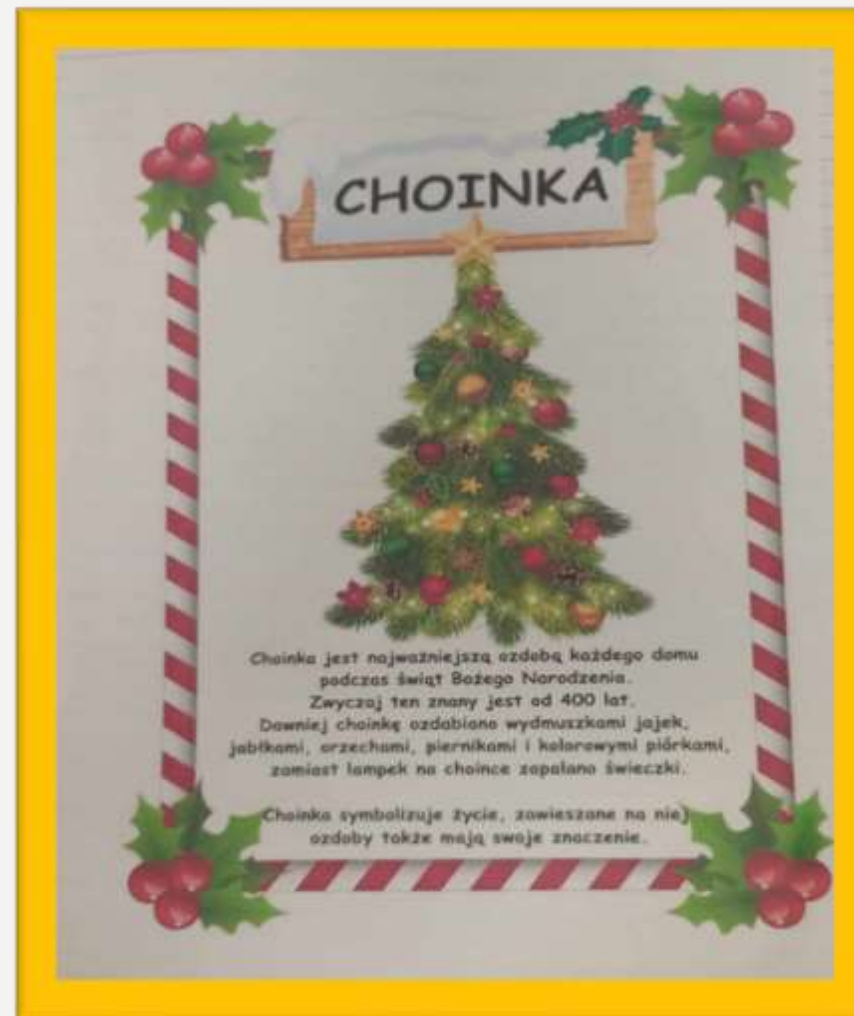
$19 \text{ zł} + 5 \text{ zł} = 24 \text{ zł}$
 $100 \text{ gr} - 40 \text{ gr} = 60 \text{ gr}$
 $50 \text{ gr} - 30 \text{ gr} = 20 \text{ gr}$
 $2 \cdot 4 \text{ zł} = 8 \text{ zł}$
 $20 \text{ zł} - 8 \text{ zł} = 12 \text{ zł}$

$4 \cdot 2 \text{ zł} = 8 \text{ zł}$ $6 \cdot 2 \text{ zł} = 12 \text{ zł}$
 $10 \cdot 1 \text{ zł} = 10 \text{ zł}$
 $(3 \cdot 2 \text{ zł}) + (5 \cdot 5 \text{ zł}) = 21 \text{ zł}$
 $(2 \cdot 5 \text{ zł}) + (4 \cdot 2 \text{ zł}) = 10 + 8 = 18 \text{ zł}$
 $10 \text{ zł} + (3 \cdot 1 \text{ zł}) + (5 \cdot 5 \text{ zł}) = 10 + 3 + 25 = 38$

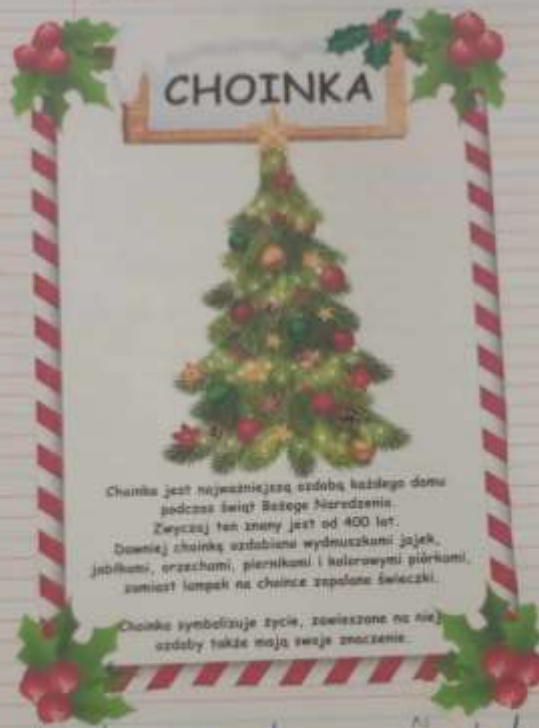
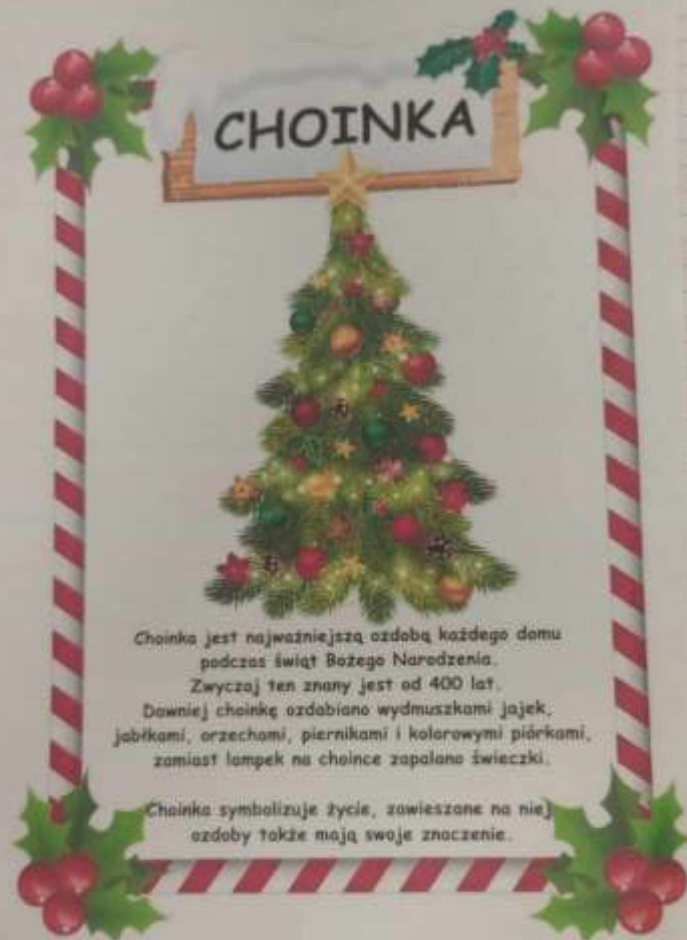
$3 \cdot 2 = 6 \text{ zł}$ $3 \cdot 3 = 9 \text{ zł}$ $6 \text{ zł} + 3 \text{ zł} = 9 \text{ zł}$
 $4 \cdot 4 = 16 \text{ zł}$ $14 + 5 = 19 \text{ zł}$ $20 - 10 = 10 \text{ zł}$
 $100 \text{ gr} - 40 = 60 \text{ gr}$ $50 \text{ gr} - 30 \text{ gr} = 20 \text{ gr}$
 $2 \cdot 4 \text{ zł} = 8 \text{ zł}$ $20 - 8 = 12 \text{ zł}$



CHOINKA DLA GROSIKA



Wspólnie rozważaliśmy, która choinka jest bardziej przyjazna dla środowiska? Sztuczna, czy prawdziwa? Przeprowadziliśmy rozmowę o choinkach w naszych domach. Nauczyciel przekazał, jak po świętach dać drugie życie naturalnej choince świątecznej. Rozmawialiśmy także na temat ozdób choinkowych, a na koniec każdy stworzył piękny opis choinki.



Moja choinka jest ostuczana. Jest duża. Ma rypsty i szelki. Jest ozdobiona: czerwonymi biało-złotym tańczącym i gwiazdką świąteczną.



Moja choinka jest prawdziwa. Jest duża, ale nie sięga do sufitu. Dzwonko jest matorzysta. Ozdobiona jest bombkami i kolorowymi lampkami. Na szubku ma srebrną gwiazdę. Ma także srebrną tańczącą. Moja choinka podoba mi się, bo wprowadza świąteczny nastrój.

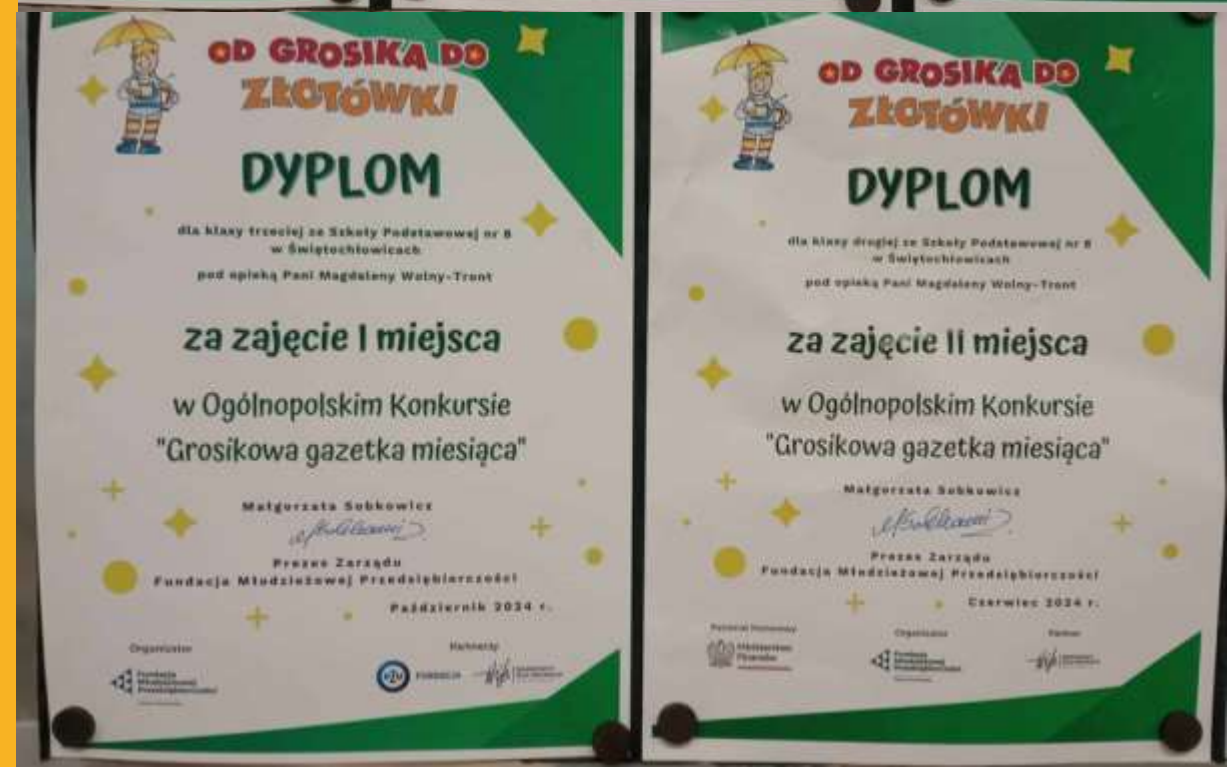
Moja choinka jest prawdziwa. Jest średniej wielkości. Ma kształt podobny do trójkąta. Jest ozdobiona dużą gwiazdą, na górze i wieloma bombkami. Wprowadza nastrój świąteczny.

Moja choinka jest prawdziwa. Ta choinka jest duża. Choinka jest smukła i kolorowa. Jest ozdobiona różnokolorowymi bombkami i długim złotym tańczącym. Wprowadza świąteczny nastrój.

**DZĘKUJEMY! TO BYŁA
WSPANIAŁA PODRÓŻ 😊**

**WIEDZA ZDOBYTA
PODCZAS GALAKTYCZNYCH
WĘDRÓWEK NA PEWNO
BĘDZIE PRZEZ NAS
WYKORZYSTYWANA.**

SERDECZNIE POZDRAWIAMY





**ŻYCZYMY
WESOŁYCH
ŚWIĄT**

**DOBREGO
GOSPODAROWANIA
FINANSAMI
ORAZ ROZSĄDNEGO
PLANOWANIA ZAKUPÓW**